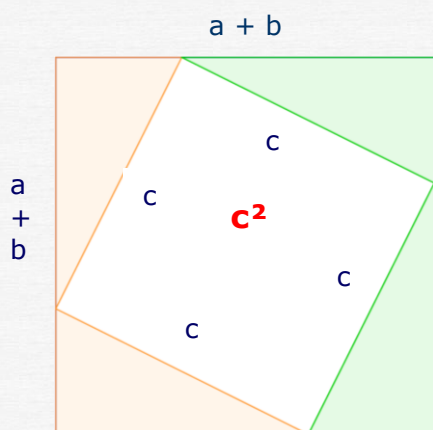
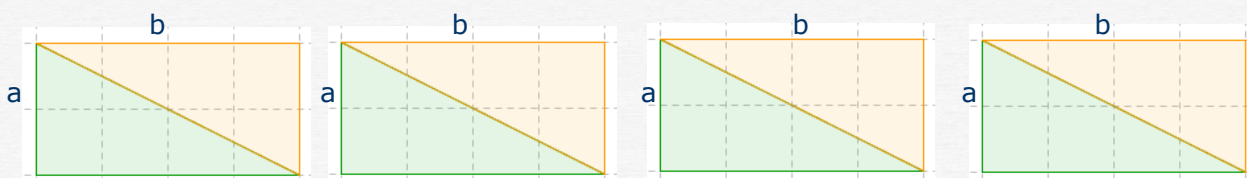




Egalité de Pythagore

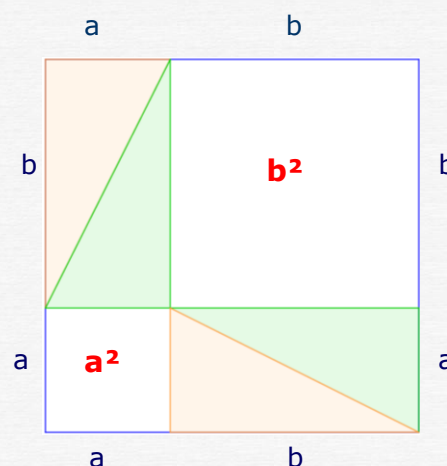
I Le théorème de Pythagore

Activité On découpe 4 rectangles coloriés de côtés **a** et **b** comme ceux-ci et on les place en les découpant dans 2 carrés de côté $(a + b)$. On appelle **c** la longueur de la diagonale.



On peut facilement prouver que le quadrilatère blanc de la figure de gauche est un carré. Son aire est c^2 .
L'aire blanche des 2 carrés de la figure de droite ($b^2 + c^2$) est égale à l'aire blanche de la figure de gauche. (C'est l'aire du grand carré moins 2 rectangles). On en déduit que

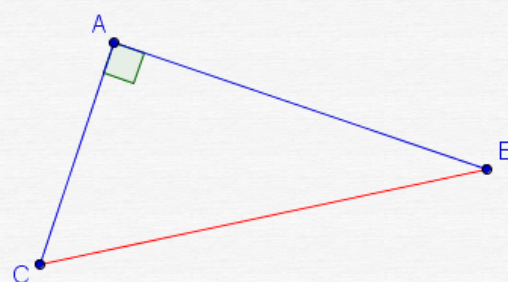
$$c^2 = a^2 + b^2$$



Voir aussi l'[animation](#) avec Géogébra

Énoncé du théorème de Pythagore

Si un triangle est rectangle alors le carré de l'hypoténuse est égal à la somme des carrés des côtés de l'angle droit



Énoncé avec les points de la figure

Si ABC est un triangle rectangle en A alors $BC^2 = AB^2 + AC^2$

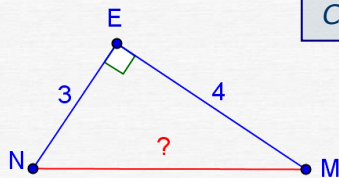
hypoténuse \rightarrow

côtés de l'angle droit \uparrow

A retenir

On va utiliser le théorème de Pythagore pour calculer un côté d'un triangle rectangle lorsqu'on connaît les deux autres

Exemple 1 :



On donne triangle MEN rectangle en E, $EN = 3\text{cm}$ et $EM = 4\text{cm}$.
Calculer la longueur MN.

On repère l'hypoténuse [MN]

Le triangle MEN est rectangle en E donc d'après le théorème de Pythagore, $MN^2 = EN^2 + EM^2$

On remplace les lettres par les longueurs connues :

$$MN^2 = 3^2 + 4^2$$

$$MN^2 = 9 + 16$$

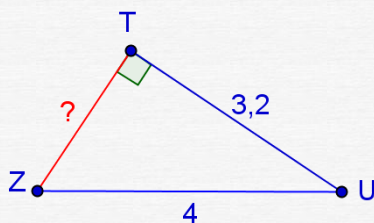
$$MN^2 = 25$$

On fait les calculs en respectant les priorités

On cherche mentalement le nombre qui a pour carré 25 : c'est 5.

On conclut **MN = 5cm**

Exemple 2 :



On donne triangle ZUT rectangle en T, $TU = 3,2\text{cm}$ et $ZU = 4\text{cm}$.
Calculer la longueur ZT.

On repère l'hypoténuse [ZU]. On remarque que sa longueur est donnée.

Le triangle ZUT est rectangle en T donc d'après le théorème de Pythagore, $ZU^2 = TZ^2 + TU^2$

On remplace les lettres par les longueurs connues :

$$4^2 = TZ^2 + 3,2^2$$

Pour trouver un côté de l'angle droit, il faut faire une soustraction

On en déduit

$$TZ^2 = 4^2 - 3,2^2$$

D'où

$$TZ^2 = 16 - 10,24 = 5,76$$

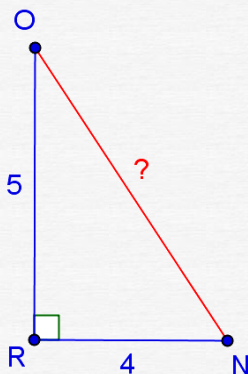
$TZ^2 = 5,76$. A l'aide de la calculatrice, on cherche le nombre dont le carré est 5,76.

Il faut taper $\sqrt{\quad}$ puis 5,76 puis = le résultat affiché est 2,4. On écrira

D'où **TZ = 2,4cm**

On peut vérifier que $2,4^2 = 5,76$

Exemple 3 :



On donne triangle RON rectangle en R, $RN = 4\text{cm}$ et $RO = 5\text{cm}$.
Calculer ON^2 puis la longueur ON à 1mm près.

On repère l'hypoténuse [ON]

Le triangle RON est rectangle en R donc d'après le théorème de Pythagore, $ON^2 = RN^2 + RO^2$

On remplace les lettres par les longueurs connues :

$$ON^2 = RN^2 + RO^2$$

$$ON^2 = 4^2 + 5^2$$

$$ON^2 = 16 + 25 = 41 \text{ on répond } \mathbf{ON^2 = 41}$$

La calculatrice affiche pour $\sqrt{41} \rightarrow 6.403124237$

Il faut donc donner un arrondi de la longueur

On écrira **d'où $ON \approx 6,4\text{cm}$** à 1mm près.

Exercices :

- 1) Combien mesure la diagonale d'un carré de côté 10cm ?
- 2) La diagonale d'un rectangle mesure 13cm et l'un des côtés 12cm. Calculer en justifiant la longueur de l'autre côté.

II Réciproque du théorème de Pythagore

Activité : Construire un triangle dont les dimensions sont 10cm, 8cm et 6cm. Quelle remarque peut-on conjecturer sur la nature de ce triangle ? Calculer le carré du plus grand côté. Puis la somme des carrés des 2 autres côtés. Comparer les 2 résultats

Refaire l'exercice avec 13cm, 12cm et 5cm.

Faire cette activité avec [Géogebra](#)

Théorème réciproque de Pythagore

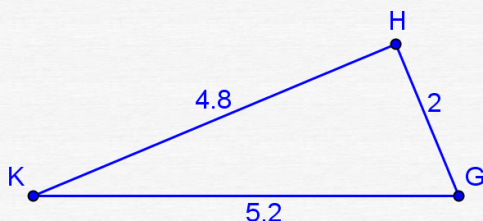
Si les côtés d'un triangle ABC vérifient la relation $BC^2 = AB^2 + AC^2$ alors ce triangle est rectangle en A

A retenir

On va utiliser le théorème réciproque de Pythagore pour montrer qu'un triangle est rectangle à condition de connaître les longueurs des 3 côtés.

Exemple 1 :

Construire le triangle GHK sachant que $KG = 5,2\text{cm}$, $KH = 4,8\text{cm}$ et $HG = 2\text{cm}$.
Montrer que ce triangle est rectangle.



Réflexion préalable :

Ce triangle semble rectangle en H après la construction mais pour le prouver il faut utiliser un théorème.

On connaît les longueurs des 3 côtés, on peut donc tenter la réciproque de Pythagore

Rédaction de la solution :

Le plus grand côté est [KG] donc si le triangle est rectangle, l'hypoténuse sera [KG].

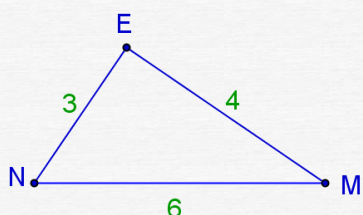
Deux calculs séparés sont nécessaires pour voir si la propriété de Pythagore est vérifiée

- L'hypoténuse au carré $KG^2 = 5,2^2 = 27,04$
- La somme des carrés des 2 autres côtés $HK^2 + HG^2 = 4,8^2 + 2^2 = 27,04$.

On a donc $KG^2 = HK^2 + HG^2$ donc le triangle GHK est rectangle en H d'après la réciproque du théorème de Pythagore.

Exemple 2 :

Construire le triangle MEN sachant que $MN = 6\text{cm}$, $NE = 3\text{cm}$ et $EM = 4\text{cm}$.
Ce triangle est-il rectangle ? Justifier.



Même raisonnement que précédemment

Le plus grand côté est [MN] donc si le triangle est rectangle, l'hypoténuse sera [MN].

Toujours les 2 calculs séparés $MN^2 = 6^2 = 36$

$$EN^2 + EM^2 = 3^2 + 4^2 = 25$$

On constate ici que $MN^2 \neq EN^2 + EM^2$

La propriété de Pythagore n'étant pas vérifiée, le triangle MEN n'est pas rectangle.

On ne parlera pas de réciproque de Pythagore car on n'a pas les données nécessaires.

Problème :

Construire un rectangle ABCD sachant que AD = 4cm et AB = 8,2cm.

Placer un point E sur le segment [AB] tel que AE = 5cm.

1. Calculer une valeur approchée à 1mm près de la longueur ED
2. Calculer une valeur approchée à 1mm près de la longueur EC
3. Le triangle ECD est-il rectangle ?